



Unimontes

EVOLUINDO O CURSO DA VIDA

CONCURSO PÚBLICO PARA PROVIMENTO DE CARGOS EFETIVOS DO QUADRO DE PESSOAL DA EDUCAÇÃO DO MUNICÍPIO DE MONTES CLAROS/MG – EDITAL 12009

ESTE CADERNO DE PROVAS DESTINA-SE AOS CANDIDATOS AOS SEGUINTE CARGOS:

Auxiliar de Docência
Auxiliar de Secretaria de Educação Básica
Inspetor de alunos

PROVAS DE LÍNGUA PORTUGUESA, MATEMÁTICA E NOÇÕES DE ADMINISTRAÇÃO PÚBLICA - ENSINO MÉDIO COMPLETO

DATA 16/5/2010	HORÁRIO 8h30min	CADERNO 001
-------------------	--------------------	-----------------------

Ficha de Identificação

NOME:		
FUNÇÃO:		Nº INSCRIÇÃO:
Nº DO PRÉDIO:	SALA:	ASSINATURA



COMISSÃO TÉCNICA DE CONCURSOS

ORIENTAÇÕES IMPORTANTES

- 01 - Este caderno contém questões do tipo múltipla escolha e uma questão discursiva.
- 02 - Verifique se o caderno contém falhas: folhas em branco, má impressão, páginas trocadas, numeração errada, etc. Encontrando falhas, levante a mão. O Fiscal o atenderá e trocará o seu caderno.
- 03 - Cada questão tem 4 (quatro) alternativas (A - B - C - D). Apenas 1 (uma) resposta é correta. Não marque mais de uma resposta para a mesma questão, nem deixe nenhuma delas sem resposta. Se isso acontecer, a questão será anulada.
- 04 - Para marcar as respostas, use preferencialmente caneta esferográfica com tinta azul ou preta. **NÃO** utilize caneta com tinta vermelha. Assinale a resposta certa, preenchendo toda a área da bolinha ●.
- 05 - Tenha cuidado na marcação da Folha de Respostas, pois ela não será substituída em hipótese alguma.
- 06 - Confira e assine a Folha de Respostas, antes de entregá-la ao Fiscal. **NA FALTA DA ASSINATURA, A SUA PROVA SERÁ ANULADA.**
- 07 - Não se esqueça de assinar a Lista de Presenças.
- 08 - Após TRÊS HORAS, a partir do início das provas, você poderá retirar-se da sala, levando este caderno.

DURAÇÃO DESTAS PROVAS: TRÊS HORAS E TRINTA MINUTOS

OBS.: Candidatos com cabelos longos deverão deixar as orelhas totalmente descobertas durante a realização das provas. É proibido o uso de boné.

Questões numeradas de 01 a 15

INSTRUÇÃO: Para responder às questões de 01 a 13 e também à questão discursiva, leia o texto a seguir.

ESTOJO ESCOLAR

1 Noite dessas, ciscando num desses canais a cabo, vi uns caras oferecendo maravilhas eletrônicas. Bastava telefonar e eu receberia um notebook capaz de me ajudar a fabricar um navio, uma usina nuclear, uma estação espacial.

Minhas necessidades são mais modestas: tenho um PC mastodôntico, contemporâneo das cavernas 5 da informática. E um notebook da mesma época que começa a me deixar na mão. Como pretendo viajar por esses dias, habilitei-me a comprar aquilo que os caras anunciavam como o top do top em matéria de computador portátil.

No sábado, recebi um embrulho complicado que necessitava de um manual de instruções para ser aberto. Depois de mil operações sofisticadas para minhas limitações, retirei das entranhas de isopor o novo 10 *notebook* e coloquei-o em cima da mesa. De repente, como vem acontecendo nos últimos tempos, houve um corte na memória. Tinha cinco anos e ia para o Jardim de Infância. E vi diante de mim o meu primeiro estojo escolar.

Era uma caixinha comprida, envernizada, com uma tampa que corria nas bordas do corpo principal. Dentro, arrumados em divisões, havia lápis coloridos, um apontador, uma lapiseira cromada, uma régua de 15 20cm e uma borracha para apagar meus erros.

Da caixinha vinha um cheiro gostoso, cheiro que nunca esqueci e que me tonteava de prazer. Fechei o estojo para proteger aquele cheiro, que ele ficasse ali para sempre, prometi-me economizá-lo. Com avareza, só o cheirava em momentos especiais.

Na tampa que protegia estojo e cheiro, havia estampado um ramo de rosas vermelhas que se 20 destacavam do fundo creme. Amei aquele ramalhete — olhava aquelas rosas e achava que nada no mundo podia ser mais bonito.

O *notebook* que agora abro é negro, não tem nenhuma rosa na tampa. E, em matéria de cheiro, é abominável. Cheira a telefone celular, a cabine de avião, ao aparelho de ultrassonografia onde outro dia uma moça veio ver como sou por dentro.

25 Piorei de estojo e de vida.

Carlos Heitor Cony, do livro *O Harém das Bananeiras*.

QUESTÃO 01

Qual é o enunciado do texto que permite demonstrar o momento do acesso do cronista às lembranças da infância?

- A) “No sábado, recebi um embrulho (...) que necessitava de um manual de instruções para ser aberto.” (linha 8)
- B) “De repente (...) houve um corte na memória.”(linhas 10-11)
- C) “E vi diante de mim o meu primeiro estojo escolar.” (linhas 11-12)
- D) “... olhava aquelas rosas e achava que nada (...) podia ser mais bonito.” (linhas 20-21)

QUESTÃO 02

Nesse texto, entre os sentidos, o que mais aguça as recordações da infância é

- A) o paladar.
- B) o olfato.
- C) a visão.
- D) a audição.

QUESTÃO 03

Todas as palavras ou expressões a seguir constituem índices de subjetividade no texto, **EXCETO**

- A) “... prometi-me...” (linha 17)
- B) “... como sou por dentro.” (linha 24)
- C) “(...) não tem nenhuma rosa na tampa.” (linha 22)
- D) “Com avareza...” (linhas 17-18)

QUESTÃO 04

A expressão “o top do top” (linha 6) significa

- A) a extrema superioridade do notebook.
- B) a relativa superioridade do notebook.
- C) que o notebook era básico.
- D) que o notebook não era tecnologicamente avançado.

QUESTÃO 05

Todos os exemplos a seguir, retirados do texto, demonstram um registro de linguagem muito próximo de um linguajar do cotidiano, **EXCETO**

- A) “... ciscando num desses canais a cabo...” (linha 1)
- B) “... vi uns caras oferecendo maravilhas eletrônicas.” (linha 1)
- C) “E um notebook (...) que começa a me deixar na mão.” (linha 5)
- D) “... retirei das entranhas de isopor...” (linha 9)

QUESTÃO 06

O quarto parágrafo do texto é, predominantemente,

- A) descritivo.
- B) dissertativo.
- C) injuntivo.
- D) narrativo.

QUESTÃO 07

Leia o seguinte trecho do texto:

“O notebook que agora abro é negro (...) Cheira a telefone celular, a cabine de avião, ao aparelho de ultrassonografia...” (linhas 22-23)

Esse trecho permite entrever uma certa aversão a instrumentos utilitários modernos. Tais opiniões e sentimentos experimentados pelo enunciador contrapõem-se ao/aos

- A) PC mastodôntico que o enunciador possui.
- B) notebook que ameaça deixar-lhe na mão.
- C) encantamento pelo estojo escolar, objeto de rememoração presente em sua infância.
- D) estojos escolares modernos mais bem equipados.

QUESTÃO 08

O adjetivo “abominável” (linha 23) possui o sentido de

- A) intocável.
- B) adorável.
- C) inominável.
- D) detestável.

QUESTÃO 09

No texto, o enunciador nos diz que a publicidade anunciava um notebook capaz de ajudá-lo a fabricar um navio, uma usina nuclear, uma estação espacial. Essas descrições do produto, na publicidade, funcionam como um(a), **EXCETO**

- A) estratégia argumentativa para favorecer a venda do produto.
- B) engodo para levar-nos a comprar um produto que certamente não atenderia a tais requisitos.
- C) demonstração de como o computador parecia ser o “top do top”.
- D) promessa de produto de avançada tecnologia.

QUESTÃO 10

Qual das alternativas a seguir comprova que não apenas os substantivos apresentam sentido conotativo?

- A) Entranhas (linha 9).
- B) Corte (linha 11).
- C) Ciscando (linha 1).
- D) Corpo (linha 13).

QUESTÃO 11

Todas as palavras a seguir acentuam-se pela mesma regra de acentuação gráfica, **EXCETO**

- A) abominável.
- B) eletrônicas.
- C) mastodôntico.
- D) época.

QUESTÃO 12

O antônimo de “avareza” (linha 18) é

- A) desprendimento.
- B) libertinagem.
- C) intransigência.
- D) mesquinaria.

QUESTÃO 13

Observe o seguinte período do texto:

“De repente, **como** vem acontecendo nos últimos tempos, houve um corte na memória.” (linhas 10-11)

A conjunção destacada, nesse período, classifica-se semanticamente como

- A) comparativa.
- B) conformativa.
- C) concessiva.
- D) temporal.

QUESTÃO 14

Observe esta “chamada” para texto, publicada no jornal Folha de São Paulo, de 13/4/2010:

“Leste Europeu hoje é presa fácil para discurso xenóforo.”

Entre as palavras do texto acima, qual está empregada conotativamente?

- A) Xenóforo.
- B) Discurso.
- C) Presa.
- D) Leste Europeu.

QUESTÃO 15

Observe esta publicidade de Veja, de 30/12/09:

“Quando o grupo Pão de Açúcar cresce, cresce também a vontade de servir aos clientes, à comunidade e ao planeta. E **isso** não é de hoje.”

A palavra destacada na publicidade é

- A) explicativa.
- B) opositiva.
- C) causativa.
- D) resumitiva.

PROVA DE MATEMÁTICA
Questões numeradas de 16 a 25

QUESTÃO 16

A soma dos n primeiros números naturais pares, não nulos, é

- A) n^2 .
- B) $n^2 + n$.
- C) $n^2 + 1$.
- D) $(n + 1)^2$.

QUESTÃO 17

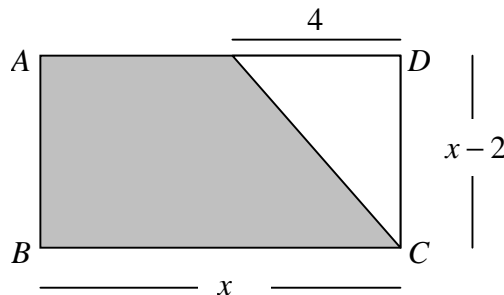
O número de matriculados em uma escola, em 2009, era de 1280 alunos, e os lanches individuais, para a merenda, eram adquiridos mensalmente para os 25 dias letivos. Se em 2010 foram matriculados mais 320 alunos, então os lanches adquiridos mensalmente, em 2009, seriam suficientes para quantos dias letivos em 2010?

- A) 5 dias.
- B) 15 dias.
- C) 18 dias.
- D) 20 dias.

QUESTÃO 18

Na figura abaixo, $ABCD$ é um retângulo de dimensões x e $x - 2$. A área y da parte colorida é dada pela função

- A) $y = x^2 - 2x$.
- B) $y = 2x - 4$.
- C) $y = x^2 - 4x + 4$.
- D) $y = x^2 - 2x + 4$.



QUESTÃO 19

Tomando como base as temperaturas máxima e mínima registradas em Montes Claros, em um determinado dia, foi montada uma escala M de temperaturas. A correspondência entre as escalas M e Celsius é dada pela tabela abaixo. Em que temperatura, na escala M , a água começa a ferver?

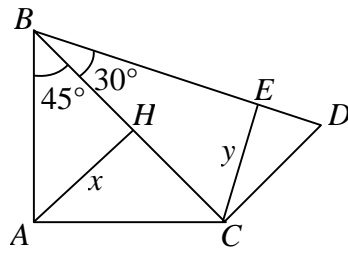
- A) $180^\circ M$.
- B) $268^\circ M$.
- C) $300^\circ M$.
- D) $400^\circ M$.

$^\circ M$	$^\circ C$
0	18
100	43

QUESTÃO 20

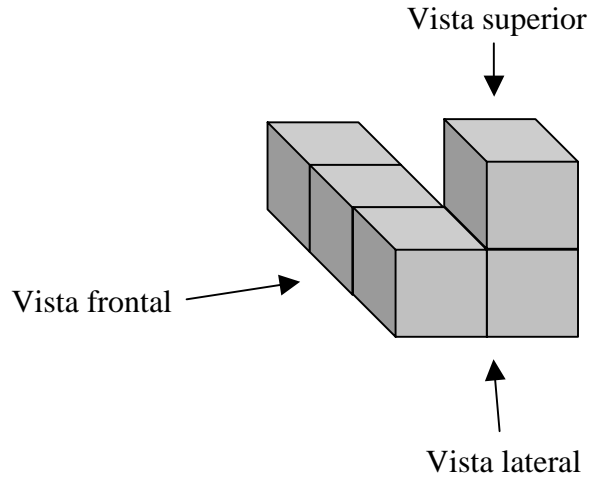
Na figura abaixo, os ângulos \widehat{BAC} , \widehat{AHC} , \widehat{HCD} e \widehat{CEB} são retos. As medidas x e y são tais que

- A) $x = y$.
- B) $y < x$.
- C) $y = \frac{3}{4}x$.
- D) $y > x$.

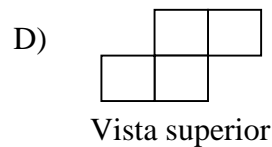
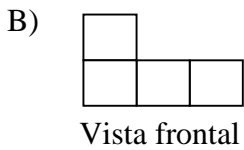
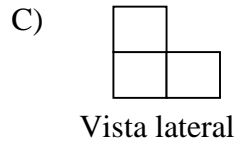
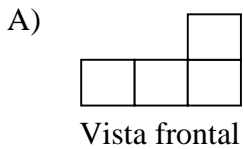


QUESTÃO 21

Observe a pilha de cubos da figura abaixo.



De acordo com as planificações das vistas, a associação **CORRETA** é



QUESTÃO 22

As afirmações abaixo são verdadeiras, **EXCETO**

- A) se dois planos são paralelos, toda reta contida em um deles é paralela ao outro.
- B) se um plano contém duas retas paralelas a um outro plano, então esses planos podem ser concorrentes.
- C) se duas retas são paralelas, então todo plano que intercepta uma delas intercepta também a outra.
- D) se duas retas distintas são perpendiculares a um mesmo plano, então elas são paralelas entre si.

QUESTÃO 23

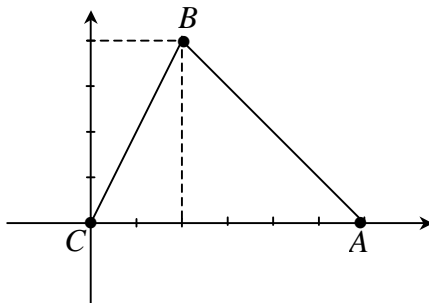
Um baralho tinha 52 cartas, mas os seus quatro reis desapareceram. Dois jogadores, A e B, estão disputando um jogo com esse baralho mutilado. O jogador A dá 3 cartas ao adversário e mais três para si, entre as quais três de espada, ás de copas e ás de paus. A probabilidade de seu adversário ter recebido um três é

- A) $\frac{4}{45}$.
- B) $\frac{1}{12}$.
- C) $\frac{1}{16}$.
- D) $\frac{1}{15}$.

QUESTÃO 24

Seja $A = (6,0)$, $B = (4,2)$ e $C = (0,0)$, o ortocentro do triângulo ABC (ponto de encontro das três alturas), é

- A) $(4,4)$.
- B) $(3,-1)$.
- C) $\left(\frac{10}{3}, \frac{2}{3}\right)$.
- D) $(10,2)$.



QUESTÃO 25

O valor da expressão $y = i + i^2 + i^3 + \dots + i^{1001}$ é

- A) 1.
- B) $1+i$.
- C) i .
- D) $-i$.

PROVA DE NOÇÕES DE ADMINISTRAÇÃO PÚBLICA
Questões numeradas de 26 a 30

QUESTÃO 26

Com base na Lei 3.175/2003, que dispõe sobre o Estatuto do Servidor Público do Município de Montes Claros, analise as afirmativas abaixo e, ao final, marque a sequência **CORRETA**.

- I - A nomeação é uma forma de provimento de cargo público, sendo realizada tanto no cargo efetivo como no cargo em comissão.
- II - A promoção, reintegração e reversão são formas de provimento de cargo público.
- III - Às pessoas portadoras de deficiência é assegurado o direito de inscrição em concurso público para provimento de cargo cujas atribuições sejam compatíveis com a deficiência de que são portadoras, sendo as vagas não preenchidas destinadas aos outros classificados no respectivo concurso.
- IV - O cargo em comissão poderá ser preenchido, temporariamente, por designação até o seu provimento por ato de nomeação.
- A) Somente I, II e III são verdadeiras.
B) Somente IV é falsa.
C) Somente II, III e IV são verdadeiras.
D) I, II, III e IV são verdadeiras.

QUESTÃO 27

Com base na Lei 3.175/2003, que dispõe sobre o Estatuto do Servidor Público do Município de Montes Claros, marque a alternativa que **NÃO** corresponde a uma forma de movimentação de pessoal.

- A) Remoção é o deslocamento do servidor de uma para outra secretaria ou de uma unidade para outra, dentro da mesma secretaria.
- B) Aproveitamento é o ajustamento de quadro de pessoal às necessidades dos serviços, inclusive nos casos de reorganização, extinção ou criação de órgão.
- C) Disposição é a cessão do servidor para ter exercício, por prazo determinado, em órgão ou entidade diversa do quadro em que se encontrar lotado seu cargo.
- D) Readaptação é o cometimento ao servidor de encargo compatível com a limitação que tenha sofrido em sua capacidade física ou mental, verificada em inspeção médica oficial e específica.

QUESTÃO 28

De acordo com o que determina a Lei 3.175/2003, que dispõe sobre o Estatuto do Servidor Público do Município de Montes Claros, e a Lei 3.177/2003, que institui o Código de Ética Profissional do Servidor Público do Poder Executivo Municipal, em relação às proibições determinadas ao servidor público, analise as afirmativas abaixo, marcando **V** para as verdadeiras e **F** para as falsas.

- () Promover manifestação de apreço ou despreço no recinto da repartição, salvo se se tratar de assunto de interesse público.
- () Manter sob sua chefia imediata, em cargo de confiança, cônjuge, companheiro ou parente até o segundo grau civil.
- () Atuar como procurador ou intermediário, na repartição pública, salvo quando se tratar de benefícios previdenciários ou assistenciais de parentes até o segundo grau e de cônjuge ou companheiro.
- () Em hipótese alguma, um servidor poderá acometer a outro servidor atribuições estranhas ao cargo que este ocupa.

A sequência **CORRETA** é

- A) F, V, V, F.
B) V, F, V, F.
C) F, F, F, V.
D) V, V, F, V.

QUESTÃO 29

Com base na Lei 3.175/2003, que dispõe sobre o Estatuto do Servidor Público do Município de Montes Claros, em relação às vantagens que poderão ser pagas ao servidor além do seu vencimento, marque a alternativa **CORRETA**.

- A) As indenizações pagas habitualmente se incorporam ao vencimento ou provento do servidor público.
- B) As gratificações e os adicionais não se incorporam ao vencimento ou provento do servidor público, ainda que pagos com habitualidade.
- C) As indenizações, gratificações, adicionais e abono família são formas de vantagens garantidas por lei ao servidor público.
- D) As vantagens pecuniárias percebidas por servidor público serão computadas e acumuladas para fins de concessão de acréscimos ulteriores.

QUESTÃO 30

Tendo em vista a aplicação das penalidades disciplinares previstas na Lei 3.175/2003, que dispõe sobre o Estatuto do Servidor Público do Município de Montes Claros, analise as afirmativas abaixo e, ao final, marque a sequência **CORRETA**.

- I - Quando se tratar de demissão e cassação de aposentadoria ou disponibilidade de servidor vinculado a órgão abrangido por essa lei, a aplicação da penalidade caberá ao Prefeito Municipal.
- II - As penalidades de advertência e suspensão terão seus registros cancelados após o decurso de 3 (três) e 5 (cinco) anos de efetivo exercício, respectivamente, se o servidor não houver, nesses períodos, praticado nova infração disciplinar.
- III - O cancelamento da penalidade surtirá efeitos retroativos.
- IV - A destituição de cargo em comissão será aplicada nos casos de infração sujeita às penalidades de suspensão ou de demissão.

- A) Somente I, II e IV são verdadeiras.
- B) Somente I, III e IV são verdadeiras.
- C) Somente II e III são verdadeiras.
- D) I, II, III e IV são verdadeiras.

QUESTÃO DISCURSIVA

INSTRUÇÃO: De acordo com as orientações que se seguem, escreva um texto dissertativo de **10 linhas**.

No texto “Estojo Escolar”, apresentado nesta prova, o autor rememora um aspecto feliz de sua infância. Em sua opinião, qual é a importância de uma infância feliz, bem vivida, para a vida de um indivíduo adulto?

NÃO É NECESSÁRIO DAR TÍTULO AO SEU TEXTO

O SEU TEXTO DEVE SER REDIGIDO NA FOLHA DE RESPOSTA DA QUESTÃO DISCURSIVA

